

Triangular Lodge

20 maximumscore 4

- Voor de oppervlakte in cm^2 moet er gerekend worden met een factor $30,48^2$ 2
- De oppervlakte is $(471,55 \cdot 30,48^2 =) 438\,084, \dots (\text{cm}^2)$ 1
- Het antwoord: $43,8 (\text{m}^2)$ 1

Opmerking


Voor het eerste antwoordelement mogen uitsluitend 0 of 2 twee scorepunten worden toegekend.

21 maximumscore 4

Een aanpak als:

- Het tekenen van de horizon 2
- De horizon ligt ter hoogte van de ingang, dat is (ongeveer) 0,22 van de hoogte van het gebouw tot aan de dakrand aan de buitenkant 1
- Het antwoord: 180 (cm) 1

Voorbeeld van een horizonconstructie



Opmerkingen

- Als gevolg van onnauwkeurigheden bij het opmeten in de figuur kunnen redelijk grote afwijkingen in de gevonden hoogte vóórkomen.
- Voor het eerste antwoordelement mag voor een niet volledig juist antwoord 1 scorepunt worden toegekend.

lees verder ►►►

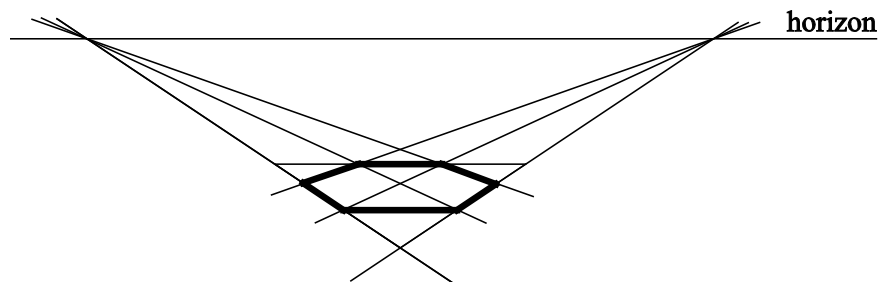
Vraag	Antwoord	Scores
-------	----------	--------

22 maximumscore 5

Een aanpak als:

- Het verdelen van de ‘achterste’ zijde van de driehoek in drie gelijke delen 1
- Het tekenen van de twee verdwijnpunten door het verlengen van de twee niet-horizontale zijden van de driehoek 1
- Het tekenen van de vier andere punten van de zeshoek met behulp van de verdwijnpunten op twee niet-horizontale zijden van de driehoek 2
- Het verder afmaken van de tekening van de zeshoek 1

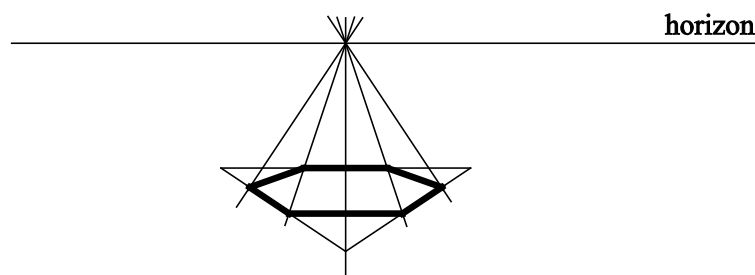
Voorbeeld van een bijbehorende tekening



of

- Het verdelen van de ‘achterste’ zijde van de driehoek in zes gelijke delen 1
- Het tekenen van het verdwijnpunt met behulp van het midden van de ‘achterste’ zijde en het tegenoverliggende hoekpunt van de driehoek 1
- Het tekenen van de vier andere punten op basis van de vier overblijvende punten op de ‘achterste’ zijde en het verdwijnpunt 2
- Het verder afmaken van de tekening van de zeshoek 1

Voorbeeld van een bijbehorende tekening



Opmerking

Bij het eerste zowel als het tweede antwoordalternatief mag voor het derde antwoordelement voor een niet volledig juist antwoord 1 scorepunt worden toegekend.