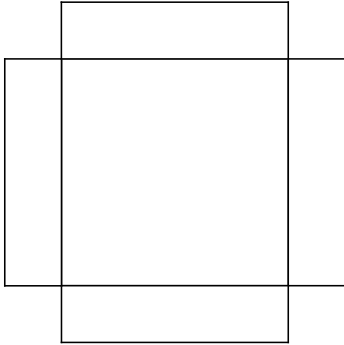


Verjaardagstaart

4 maximumscore 2

Een voorbeeld van een juiste uitslag:



- Het tekenen van de drie zijanten op een juiste plaats
- De vorm van elke zijkant is een rechthoek van 6 bij 1,5 cm

1
1

5 maximumscore 3




- $24 \times 24 = 576 \text{ (cm}^2\text{)}$
- $24 \times 6 \times 4 = 576 \text{ (cm}^2\text{)}$
- $576 + 576 = 1152 \text{ (cm}^2\text{)}$

1
1
1

6 maximumscore 2

Het tekenen van 8 even grote stukken.

Voorbeelden van juiste verdelingen:



7 maximumscore 3

- $24 \times 24 \times 6 = 3456 \text{ (cm}^3\text{)}$
- $3456 : 3$
- Het antwoord: $1152 \text{ (cm}^3\text{)}$

1
1
1